






GESAMT
SCHULE  NEUWERK
MÖNCHENGLADBACH









Geocaching

*Projektwoche:
875 Jahre Neuwerk*



Aufnahme eines Wegpunktes mit GPS





Unser Rätsel

Wann wurde die Benediktiner Kirche in Neuwerk gebaut?

1 1 3 5

A B C D

*Welche Zahl befindet sich in dem Wort
"Dreieistern"?*

*—
E*

*Wie lautet die unterste Zahl auf dem
jüdischen Gedenkstein?*

*— — — —
F G H I*

*Welche Hausnummer hat das Autohaus
"Toyota" auf der Krefelder Strasse?*

*— — —
J K L*

*Wie lautet die Hausnummer der Ueddinger
Kirche?*

*— — —
M N O*



Das Einsetzen der Lösungszahlen (Beispiel)

★ N°51 (A+B). (C+B)(D-A)(G-O)
E°006(G*J+A). (E+C) (G-H) (L+C)

